

Adı Soyadı: _____

Sınıfı/No: _____

5. SINIF

Fen Bilimleri

@basarimodu_com


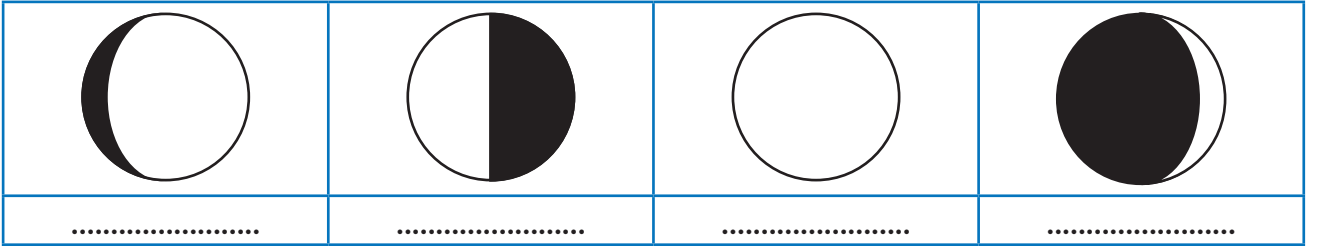


Ay'ın Evreleri Çalışma Kağıdı

1. Ay'ın evreleri ile ilgili verilen cümlelerden doğru olanın karşısına "D" yanlış olanın karşısına "Y" yazınız.

- () Ay'ın evreleri, Ay'ın Güneş'ten aldığı ışığı yansıtması sonucu oluşan farklı görünümüdür.
- () Yeni ay evresinde Ay ışık alamadığı için gözlenemez.
- () Son Dördün evresinde Ay, Dünya'dan bakıldığında "D" harfine benzeyen bir şekle sahiptir.
- () Ay, hilal evresinde "C" harfine ya da "ters C" harfine benzemektedir.
- () Ay'ın evrelerinin sırası: Dolunay → İlk Dördün → Yeni ay → Son Dördün.
- () Ay'ın görünür parlaklığının en fazla olduğu evre Dolunay evresidir.
- () Dolunay evresi, Ay'ın, Dünya ile Güneş arasında bulunduğu evredir.
- () Ay'ın ana evrelerinin gözlenme süreleri arasında 1 haftalık süre vardır.
- () İlk dördün evresi yeni ay evresinden 1 hafta sonra gözlenmektedir.

2. Aşağıda sıralaması karışık halde verilen Ay'ın evrelerinin isimlerini yazınız.



3. Aşağıda isimleri verilen Ay'ın evrelerinin görsellerini uygun yerlere çiziniz.

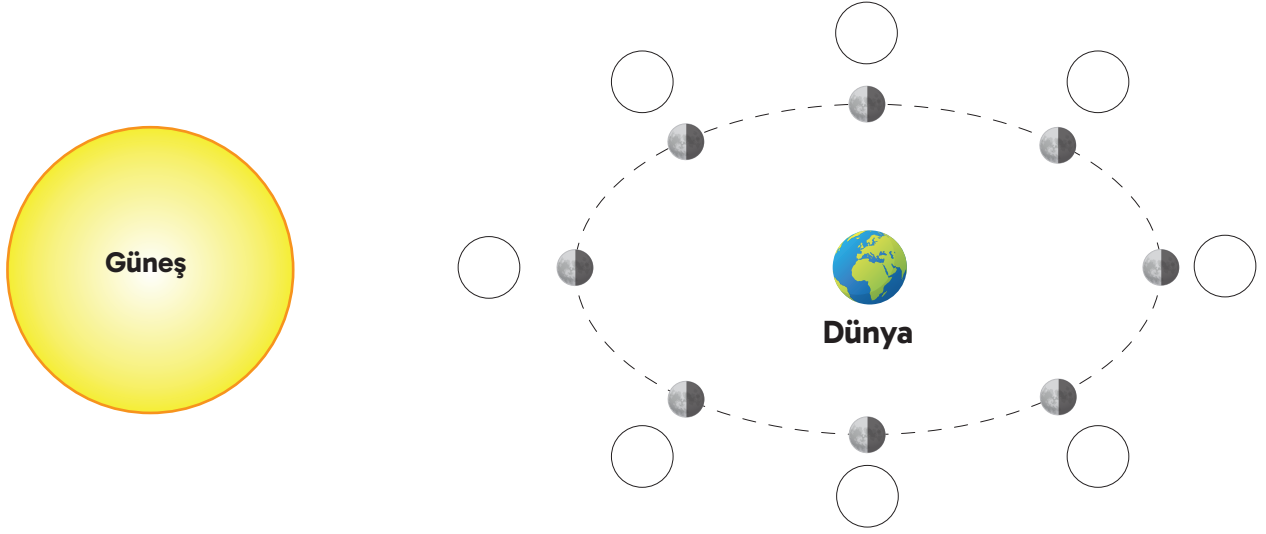
İlk dördün	Yeniay	Dolunay

Son dördün	Şişkin ay	Hilal



Ay'ın Evreleri Çalışma Kağıdı

4. Aşağıda Dünya'nın etrafındaki konumlara Ay'ın evrelerinin isimlerini ve Dünya'dan görünen halini çiz-



5. Aşağıda evreleri verilen kutuların belirli süre önce ve sonraki evrelerinin görünüşleri ve isimlerini uygun yerlere yazınız.

	1 hafta sonra →			1 hafta sonra →	
	1 hafta sonra →			2 hafta sonra →	
	1 hafta sonra →			2 hafta sonra →	