

Adı Soyadı: _____

Sınıfı/No: _____

5. SINIF




Matematik

@basarimodu_com



Geometrik Kavramlar

1. Aşağıda verilen şekillerin isimlerini ve geometrik gösterimlerini yazınız.

| Şekil | Sembol | Okunuşu |
|---|--------|---------|
|  | | |
|  | | |
|  | | |

2. Aşağıdaki ifadelerden doğru olanları (✓) yanlış olanları (X) ile işaretleyiniz..

- () Doğruların uzunlukları ölçülebilir.
() Doğru parçalarının uzunlukları ölçülebilir.
() Işınlardan uzunlukları ölçülebilir.
() AB doğru parçasının uzunluğu [AB] ile gösterilir.

3. Aşağıdaki kalemlerin doğru, doğru parçası ve ışın modellerinden hangisini temsil ettiğini yazınız.

| | | |
|---|---|---|
|  |  |  |
| _____ | _____ | _____ |

4. Aşağıdaki tabloda okunuşu verilen geometrik şekilleri çizerek semboller ile gösteriniz.

| Okunuşu | Şekil | Sembol |
|------------------|-------|--------|
| AB doğru parçası | | |
| CD ışını | | |
| EF doğrusu | | |
| GH ışını | | |

